

УТВЕРЖДАЮ

Первый заместитель начальника
главного управления по образованию
Могилевского облисполкома



И.Г. Лошкевич

2024 г.

ЗАДАНИЯ

для проведения городских, районных олимпиад
по учебному предмету «География»

Дата проведения: «27» марта 2024 г.

Время выполнения заданий: 10.00 – 13.00

VIII класс

Общее количество баллов за задания – 100

1. Узнайте географические термины и впишите их в соответствующую строку таблицы. (до 10 баллов)

Определение	Географический термин
Определение общего положения и направления государственной границы между сопредельными государствами путём переговоров.	
Наука о воспроизводстве (возобновлении) населения.	
Один из видов трудовой миграции граждан, когда наиболее квалифицированные кадры мигрируют в другие страны по экономическим соображениям.	
Соотношение между величиной природных ресурсов и размерами их использования	
Экономический показатель, отражающий рыночную стоимость всех товаров и услуг, произведённых за год во всех отраслях экономики на территории страны.	
Совокупный показатель уровня развития человека в той или иной стране.	
Разведение и выращивание водных организмов (рыб, ракообразных, моллюсков, водорослей) в естественных и искусственных водоёмах, а также на специально созданных	

морских плантациях.	
Наиболее крупная форма расселения, образующаяся при срастании городских агломераций.	
Процесс роста численности городского населения и расширения территории городов с отсутствием преимуществ городского образа жизни.	
Тип специализации хозяйства страны на производстве одного, как правило, сырьевого или продовольственного товара, предназначенного в основном для экспорта.	

2. Заполните таблицу «Крупнейшие бассейны, провинции и месторождения полезных ископаемых мира». Ответы впишите цифрами. (до 14 баллов)

Бассейны, провинции и месторождения: 1) Аль-Гавар, 2) Аппалачский, 3) Боке-Гавал, 4) Большой Бурган, 5) Верхнего озера, 6) Верхнекамское, 7) Иллинойский, 8) Итабира, 9) Калифорнийская, 10) Канско-Ачинский, 11) Каражас, 12) Кузнецкий, 13) Курская магнитная аномалия, 14) Лабрадорский, 15) Ленский, 16) Лотарингский 17) Маракайбская, 18) Ньюфаундлендское, 19) Оринокская, 20) Прадхо-Бей, 21) Рурский, 22) Саскачеванский, 23) Тунгусский, 24) Тяньсинский, 25) Уренгойское, 26) Уэйпа, 27) Чукикамата, 28) Южный Парс.

Полезное ископаемое	Бассейны, провинции и месторождения
Бокситы	
Железная руда	
Калийная соль	
Медная руда	
Нефть	
Природный газ	
Уголь	

3. Заполните таблицу «Факторы размещения промышленности». Ответы впишите цифрами. *Внимание! Каждое предприятие – только один главный фактор!* (до 7 баллов)

Предприятия: 1) авиационный завод, 2) алюминиевый завод, 3) горнообогатительный комбинат, 4) завод медпрепаратов, 5) завод

химических волокон, 6) завод электромобилей, 7) калийный комбинат, 8) лесопилка, 9) макаронная фабрика, 10) ракетно-космический завод; 11) хлебозавод, 12) ЦБК, 13) цементный завод, 14) швейная фабрика.

Фактор размещения	Предприятия
Сырьевой	
Энергетический	
Потребительский	
Наукоёмкости	

4. Заполните таблицу «Технические культуры». Ответы впишите цифрами. (до 8 баллов)

Культуры: 1) агава, 2) джут, 3) какао, 4) кокосовая пальма; 5) конопля, 6) кофе, 7) лён-долгунец, 8) масличная пальма, 9) рапс, 10) подсолнечник, 11) сахарная свекла; 12) сахарный тростник, 13) соя, 14) хлопчатник, 15) чай, 16) юкка.

Технические культуры	Примеры
Волокнистые	
Масличные	
Сахароносные	
Тонизирующие	

5. Назовите страны-лидеры. *Внимание! Страны не повторяются!* (до 14 баллов)

Какая страна занимает 1-е место в мире по:

добыче урановых руд? _____

добыче бокситов? _____

добыче медных руд? _____

запасам природного газа? _____

количеству объектов Всемирного наследия ЮНЕСКО? _____

количеству проживающих народов? _____

посещаемости туристами? _____

производству плодов оливы? _____

производству какао-бобов? _____

производству чая? _____

производству промышленных роботов? _____

сбору кукурузы? _____



сбору сахарного тростника? _____


численности мусульман? _____

6. Соотнесите изображения с названиями объектов Всемирного наследия ЮНЕСКО и странами, в которых они расположены. Заполните таблицу. Ответы впишите цифрами. (до 10 баллов)



Название: 1) Ангкор-Ват, 2) Боробудур, 3) Мачу-Пикчу, 4) Мирский замок, 5) Парфенон, 6) Петра, 7) Сиднейский оперный театр, 8) Стоунхендж, 9) Тадж-Махал, 10) Химедзи.

Страны: 1) Австралия, 2) Беларусь, 3) Великобритания, 4) Греция, 5) Индия, 6) Индонезия, 7) Иордания, 8) Камбоджа, 9) Перу, 10) Япония.

Изображение	Название	Страна
		
		





7. По экономическому портрету стран определите их название и запишите в таблицу. (до 4 баллов)

Название страны	Экономический портрет страны
	<p>Ее современные границы сформировались чуть более 30 лет назад. Сейчас она граничит с девятью государствами, имеет выход к морю на севере и горы на юго-востоке, богата природными ресурсами. Несмотря на свою драматичную историю, эта страна уже давно является одной из самых высокоразвитых в мире. Страна обладает крупнейшей экономикой Европы и вторая по численности населения на континенте. Она является ключевым членом экономических, политических и оборонных организаций континента.</p>

	<p>Территория этой древней азиатской страны была колонией Великобритании. В этой стране проживает 17 % мирового населения, представлены множество национальностей, здесь разговаривают более чем на 400 языках. Разнообразная экономика включает в себя традиционное сельское хозяйство, современное сельское хозяйство, ремесла, широкий спектр современных отраслей промышленности и множество услуг. Партнеры по экспорту: США 17 %, Объединенные Арабские Эмираты 9 %, КНР 5 %. Экспортирует очищенную нефть, алмазы, лекарства, ювелирные изделия, автомобили.</p>
	<p>Экономика страны исторически является крупнейшей в Латинской Америке и Южном полушарии в номинальном выражении. Её экономика является третьей по величине в Америке и 8-ой в мире. Страна богата природными ресурсами. В горнодобывающей отрасли она выделяется по добыче железной руды (где она является вторым мировым экспортером). Является крупнейшим в мире производителем сахарного тростника, сои, кофе, апельсинов, гуараны и др. Член различных экономических организаций, таких как Mercosur, Prosur, G8+5, G20, ВТО, Парижский клуб, Cairns Group.</p>
	<p>Страна известна своим этнокультурным и религиозным разнообразием. По природным условиям и богатству имеет много общего с Россией. У нее есть территории, слабо освоенные или даже совсем неосвоенные человеком. Несмотря на этот факт, страна относится к высокоразвитым странам мира. Объем ВВП по паритету покупательной способности выше, чем у Австралии, но ниже, чем у Бразилии. Экспортирует: сырую нефть, автомобили и запчасти к ним, золото, очищенную нефть, природный газ. Партнеры по экспорту: США, КНР, Мексика.</p>

8. Визитная карточка страны. (до 33 баллов)

*У каждой страны есть свое «лицо», которое мы называем ее визитной карточкой. Создайте на предложенной картографической основе визитную карточку страны, используя условные знаки. **Внимание! Использование географических атласов и прочей географической литературы недопустимо!***

Ваша визитная карточка должна содержать главные особенности страны:

- название и площадь (1,5 балла);*
- столицу и главные города (1,5 балла);*
- государственные символы (3 балла);*
- форму правления и политико-территориального устройства (1 балл);*
- страны-соседи (7 баллов);*
- прилегающие морские акватории (моря, заливы, проливы) и острова (4 балла);*
- главные формы рельефа (2 балла);*
- высшую точку страны и её высоту (1 балл);*
- полезные ископаемые (2 балла);*
- две главные реки (2 балла);*
- главные туристические объекты (3 балла);*
- прочие символы страны, отражающие особенности материальной и духовной культуры ее жителей (3 балла).*

Дополнительно оценивается аккуратность (1 балл), наличие и соответствие условных знаков обозначениям на карте (1 балл).

Визитная карточка _____.



Условные знаки: